

## MONTHLY TEST

नाम - .....

विषय - हिन्दी

दिनांक - .....

सभी प्रश्न हल किजिए ।

पूर्णांक - 10

प्रश्न 1 - सही विकल्प पर सही का निशान लगाइए -

2

क ) खिलौनेवाले के पास गेंद कितने पैसे वाली थी ?

1) एक पैसे वाली 2) चार पैसे वाली 3) दस पैसे वाली 4) सात पैसे वाली 

ख ) गुड़िया कानों में क्या पहने थी ?

1) नथ 2) हार 3) बाली 4) पायल 

प्रश्न 2 - कविता की पंक्तियां पूरी किजिए -

2

हरा-हरा तोता .....

गेंद एक .....

छोटी सी .....

सर-सर-सर .....

प्रश्न 3 - खिलौनेवाले के पास छोटे - छोटे, कौन - कौन से खिलौने हैं ?

2

.....

.....

प्रश्न 4 - आपकी गली/मोहल्ले में चीजें बेचने कौन - कौन आता है ?

2

.....

.....

प्रश्न 5 - आपके पास पैसे होते तो आप कौन सा खिलौना लेते और क्यों लिखें ?

2

.....

.....

.....

.....



Remark: \_\_\_\_\_

Teacher's Sign \_\_\_\_\_

## MONTHLY TEST

नाम - .....

विषय - संस्कृत

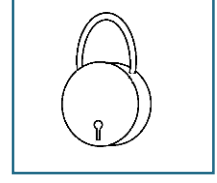



दिनांक - .....

सभी प्रश्न हल किजिए ।

पूर्णांक - 10

प्रश्न 1 - चित्राणि दृष्ट्वा संस्कृत पदानि लिखत -

2



.....

.....

.....

.....

प्रश्न 2 - मेलनम् कुरुतः -

2

कृषकः

शिक्षयति

शिक्षिका

प्रक्षालयति

मयूरः

कर्षति

रजकः

नृत्यति

प्रश्न 3 - संस्कृतेन उत्तरत् लिखत ?

2

क) तालः किं करोति ?

उत्तर : .....

ख) किं उत्पतति ?

उत्तर : .....

प्रश्न 4 - संस्कृतेन शब्दानां लिखत ?

2

क) चन्द्रमा = .....

ख) बूढा = .....

ग) दौड़ता है = .....

घ) खेलता है = .....

प्रश्न 5 - उदाहरणानुसारं शब्द अर्थानि लिखत ?

2

क) श् + उ + क् + :

= शुकः

= तोता

ख) द् + ऊ + र् + अ + भ् + आ + ष् + अ + :

= .....

= .....

ग) श् + इ + क्ष् + इ + क् + आ + :

= .....

= .....

घ) व् + आ + न् + अ + र् + अ + :

= .....

= .....

ङ) क् + उ + क् + र् + अ + :

= .....

= .....



Remark: .....

Teacher's Sign .....

## MONTHLY TEST

नाम - .....

विषय - गणित

दिनांक - .....

सभी प्रश्न हल किजिए ।

पूर्णांक - 10

प्रश्न 1 - सही विकल्प पर सही का निशान लगाइए -

2

क ) 1 सेमी में कितने मिलीमीटर होते हैं ?

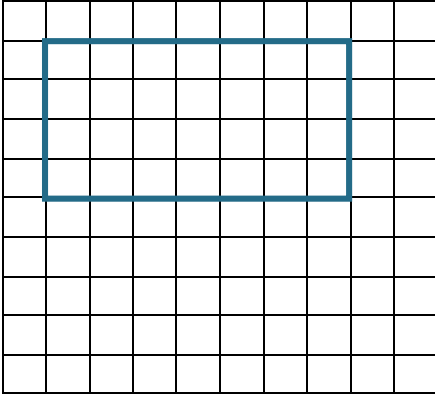
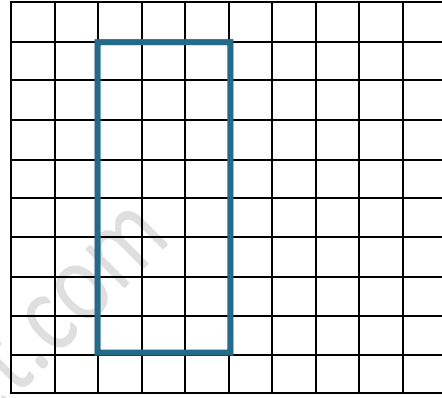
1) 20 मिमी0  2) 5 मिमी0  3) 10 मिमी0  4) 100 मिमी0 

ख ) एक वर्ग की भुजा 2 सेमी है, तो उसका परिमाप होगा ?

1) 10 सेमी0  2) 8 सेमी0  3) 4 सेमी0  4) 12 सेमी0 

प्रश्न 2 - बताओ निम्न आकृतियां कितने वर्ग घेर रही है -

2


 वर्ग

 वर्ग

प्रश्न 3 - यदि एक आकृति का क्षेत्रफल 48 वर्ग सेमी है तो बताइए -

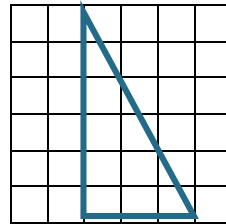
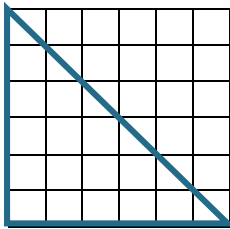
2

क ) आकृति का आधा हिस्से का क्षेत्रफल कितना होगा - .....

ख ) आकृति के दोगुने हिस्से का क्षेत्रफल कितना होगा - .....

प्रश्न 4 - इन त्रिभुज का क्षेत्रफल कितना होगा ?

2



प्रश्न 5 - एक आयताकार खेत की लंबाई 50 मीटर व चौड़ाई 30 मीटर है। खेत का परिमाप और क्षेत्रफल कितना होगा ?

2

.....

.....

.....

## MONTHLY TEST

Name - .....

Subject - English

Date - .....

**Attempt all questions.****MM - 10****Q. No. 1 – Choose the correct answer and tick -****2**

a) To make a house we need a team of

i) Doctors ii) Players iii) Labourers 

b) To run a school we need a team of

i) Labourers ii) Children iii) Pilots **Q. No. 2 – Match the team members****2**

Bowlers, wicketkeeper, batsman

school

Student, teachers, principal

film making

Striker, goalkeeper, couch, referee

cricket

Actor, actress, director, spots man

football

**Q. No. 3– Complete ‘Teamwork’ poem lines****2**

But if nobody passes then \_\_\_\_\_.

If nobody want to pass \_\_\_\_\_.

Sometimes it can be a \_\_\_\_\_.

When a you or me \_\_\_\_\_.

**Q. No. 4– Write these work done in ‘alone’ or in ‘teamwork’.****2**

a) Brush your teeth - \_\_\_\_\_

b) Making house - \_\_\_\_\_

c) Wash your face - \_\_\_\_\_

d) Celebrate your festivals - \_\_\_\_\_

**Q. No. 5– How team work help us?****2****Ans-**


---



---



---



Remark: \_\_\_\_\_

Teacher's Sign \_\_\_\_\_

MONTHLY TEST

Name - .....

Subject - EVS

Date - .....

Attempt all questions.

MM - 10

Q. No. 1 – Choose the correct answer and tick -

2

a) Which organ help us to taste-

j) Tongue  ii) Skin  iii) Ear

b) From where food starts digestion -

i) Neck  ii) Mouth  iii) Stomach

Q. No. 2 – Match the taste of these items -

2

Laddu Salty  
Bitter guard Sweets  
Pakode Sour  
Lemon Bitter

Q. No. 3– Write some organs name where travelled in your body.

2

Ans- \_\_\_\_\_  
\_\_\_\_\_

Q. No. 4– Complete the table by giving examples.


2

Ans -

Taste	Examples		
Sweet			
sour			
salty			
bitter			

Q. No. 5– Draw a picture of tongue and taste?

2



Remark: \_\_\_\_\_

Teacher's Sign \_\_\_\_\_