

## Monthly Test

नाम - .....

विषय - हिन्दी

दिनांक - .....

सभी प्रश्न हल किजिए ।

पूर्णांक - 10

प्रश्न 1 - सही विकल्प पर सही का निशान लगाइए -

2

क ) केशव क्या काम कर रहा था ?

1) मिस्त्री का 2) नक्काशी का 3) कसीदाकारी का 4) कपड़े सिलने का 

ख ) इला ने कौन सा काम करने की ठानी ?

1) मिस्त्री का 2) नक्काशी का 3) कसीदाकारी का 4) कपड़े सिलने का 

प्रश्न 2 - इन व्यवसायों के दो औजारों के नाम लिखें -

2

मिस्त्री - .....

बढ़ईगिरि - .....

नक्काशी - .....

दर्जी - .....

प्रश्न 3 - इला खेलते समय 'धप्पा' क्यों नहीं दे पाती थी ?

2

.....  
.....

प्रश्न 4 - अकबर को पहरेदार की दखलांदाजी अच्छी क्यों नहीं लगी ?

2

.....  
.....

प्रश्न 5 - इला को लेकर स्कूल वाले चिंतित क्यों थे ?

2

.....  
.....  
.....  
.....

Remark: \_\_\_\_\_

Teacher's Sign \_\_\_\_\_

## Monthly Test

नाम - .....

विषय - संस्कृत


दिनांक - .....

सभी प्रश्न हल किजिए ।

पूर्णांक - 10

प्रश्न 1 - चित्राणि दृष्ट्वा संस्कृत पदानि लिखत -

2



.....

.....

.....

.....

प्रश्न 2 - वाक्यान् पूरयित्वा मेलनं कुरुतः -

2

सूचिका	उड्डयामि
मक्षिका	सीवति
द्विचक्रिका	संरक्षयति
पेटिका	चलति

प्रश्न 3 - उदाहरणानुसारं शब्द अर्थानि लिखत ?

2

अकरान्त	आकारान्त
बालकः	बालिकाः
छात्रः	.....
अध्यापकः	.....
लेखकः	.....

प्रश्न 4 - रिक्तस्थानानि पूरयत -

2

भ्रमति,	आम्लं,	हरितम् ,	वायुयानम्
व्यंजनम् .....	।	पत्रं .....	भवति ।
..... उड्डयति ।		जम्बीरम् .....	भवति ।

प्रश्न 5 - संस्कृतेन उत्तरत् लिखत ?

2

क) पुष्पं किं करोति ?

उत्तर : .....

ख) कदलीफलम् किं भवति ?

उत्तर : .....



Remark: .....

Teacher's Sign .....

## Monthly Test

नाम - .....

विषय - गणित

दिनांक - .....

सभी प्रश्न हल किजिए ।

पूर्णांक - 10

प्रश्न 1 - सही विकल्प पर सही का निशान लगाइए -

2

क) 50 पैसे 1 रुपये का कौन सा हिस्सा है ?

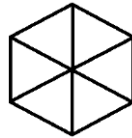
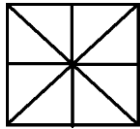

1) आधा  2) एक चौथाई  3) तीन चौथाई  4) दो तिहाई 

ख) तिरंगे झंडे में हरा रंग झंडे का कौन सा भाग है ?

1) आधा  2) एक चौथाई  3) तीन चौथाई  4) एक तिहाई 

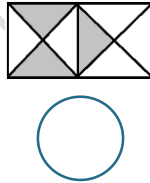
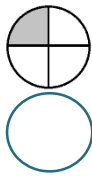
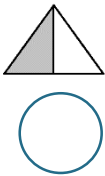
प्रश्न 2 - दिए गए भिन्नों को रेखांकित या रंग द्वारा दर्शाइए -

2

 $\frac{2}{5}$  $\frac{3}{6}$  $\frac{3}{8}$  $\frac{5}{6}$ 

प्रश्न 3 - रेखांकित भागों के लिए भिन्न लिखिए -

2

प्रश्न 4 - अरुनीष ने सुबह ढाई  $2\frac{1}{2}$  घंटे और शाम को डेढ़  $1\frac{1}{2}$  घंटे पढ़ाई की। तो बताइए उसने

कुल कितने घंटे पढ़ाई की।

2

.....  
.....

प्रश्न 5 - बताइए ये कितनवाँ हिस्सा होंगे -

2

क) 1 दर्जन केले में से, 4 केले - .....

ख) 1 दिन में से, 5 घंटे - .....

ग) 1 रुपये में से, 25 पैसे - .....

घ) 1 सप्ताह में से, 5 दिन - .....



Remark: \_\_\_\_\_

Teacher's Sign \_\_\_\_\_

## Monthly Test

Name - .....

Subject - English

Date - .....

**Attempt all questions.****MM - 10****Q. No. 1 – Choose the correct answer and tick -****2**

a) What time of the day your shadow will be tallest -

i) at noon

ii) Afternoon

iii) evening

b) Where was Robinson Crusoe -

i) on a boat

ii) in a town

iii) on an island

**Q. No. 2 – Who do you think your shadow looks like?****2**

Ans - \_\_\_\_\_

\_\_\_\_\_

**Q. No. 3 – Fill in the blanks using one of the word given in the bracket -****2**

a) The poem \_\_\_\_\_ you read out is so lovely. ( whose/which/that )

b) I know the street \_\_\_\_\_ he lives on. ( whose/that/which )

c) I like reading books \_\_\_\_\_ have pictures. ( that/who/which )

d) I saw many house \_\_\_\_\_ where quite spacious. ( which/whose/who )

**Q. No. 4– Name some objects find near sea shore?****2**

Ans - \_\_\_\_\_

\_\_\_\_\_

**Q. No. 5– Why did Robinson pray when he saw the footprint?****2**

Ans - \_\_\_\_\_

\_\_\_\_\_

\_\_\_\_\_



Remark: \_\_\_\_\_

Teacher's Sign \_\_\_\_\_

Monthly Test

Name - .....

Subject - EVS

Date - .....

Attempt all questions.

MM - 10

Q. No. 1 – Choose the correct answer and tick -

2

a) Which organ help us to smell-

j) Tongue  ii) Skin  iii) Nose

b) Dispersal of seed done by -

i) Air  ii) water  iii) All of the above

Q. No. 2 – How do you know that food is spoil?

2

Ans- \_\_\_\_\_

\_\_\_\_\_

Q. No. 3 – To germinate seeds what things are needed?

2

Ans- \_\_\_\_\_

\_\_\_\_\_

Q. No. 4 – What can we know from what is written on the food packet?

2

Ans- \_\_\_\_\_

\_\_\_\_\_

\_\_\_\_\_

\_\_\_\_\_

Q. No. 5– Draw pictures of germinating seed?

2

Large rounded rectangular box for drawing pictures of germinating seeds.



Remark: \_\_\_\_\_

Teacher's Sign \_\_\_\_\_