



## Worksheet

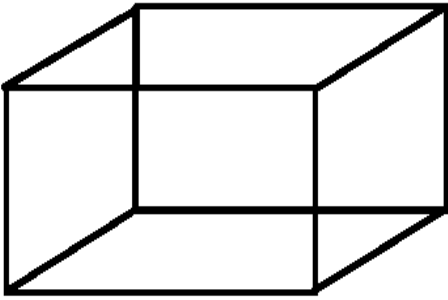
Name - \_\_\_\_\_

Date - \_\_\_\_\_

**क्रियाकलाप 1** – इस ईंट का चित्र कौन-कौन हो सकते हैं ? सही का निशान लगाएं –




**क्रियाकलाप 2** – इस घनाभाकार आकृति के कोनों को लाल रंग से गोला करें, और किनारों को नीले रंग से दर्शाएं। गिनकर भी लिखें –



कोने – .....

किनारे – .....

**क्रियाकलाप 3** – किसी ईंट की लंबाई, चौड़ाई और ऊँचाई नापकर लिखें –



लंबाई – ..... सेमी0

चौड़ाई – ..... सेमी0








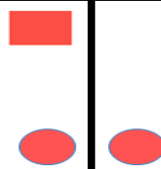







ऊँचाई – ..... सेमी0



Remark: \_\_\_\_\_

Teacher's Sign \_\_\_\_\_

क्रियाकलाप 4 – पैटर्न को आगे बढ़ाएं –

क्रियाकलाप 5 – इन पैटर्न को भी पहचान कर आगे बढ़ाएं –


11	22	33			
1A	2B	3C			
12	17	22			






Remark: \_\_\_\_\_

Teacher's Sign \_\_\_\_\_

**क्रियाकलाप 6** – आगे के खानों में भी इसी पैटर्न से ईंटें रखें, और बताएं कुल कितनी ईंटें लगेंगी –



**क्रियाकलाप 7** – सफेद या काले रंग से अपने मनपसंद का झरोखा बनाएं –




**क्रियाकलाप 8** – यदि एक इमारत में 145 झरोखे हैं, और दूसरे में 256 झरोखे। तो बताओ दोनों इमारत में कुल कितने झरोखे हैं ?




Remark: \_\_\_\_\_

Teacher's Sign \_\_\_\_\_

**क्रियाकलाप 9** – एक ईंट की लंबाई 19 सेमी और चौड़ाई 9 सेमी है। तो बताइए उसके द्वारा घेरा गया क्षेत्र कितना होगा ?



**क्रियाकलाप 10** – एक ईंट की लंबाई 19 सेमी है। तो एक लाईन में 23 ईंट रखने पर दीवार की कुल लंबाई कितनी होगी ?



**क्रियाकलाप 11** – एक दिवार की लंबाई 2 मी 85 सेमी है, और चौड़ाई 1 मी 8 सेमी है। एक परत वाली ईंटों की दिवार बनाने में लगभग कितनी ईंटों का प्रयोग होगा ? ( ईंट की लंबाई = 19 सेमी, चौड़ाई = 9 सेमी )

.....

.....

.....

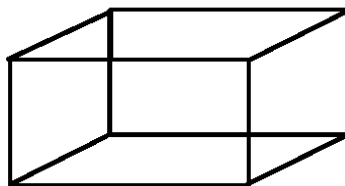
.....

.....

.....

.....

**क्रियाकलाप 12** – इस घनाभाकार आकृति के फलकों को अपने मनपसंद रंग से भरें व गिनकर भी लिखें –



Remark: \_\_\_\_\_

Teacher's Sign \_\_\_\_\_

## Homework Worksheet

Name - \_\_\_\_\_

Date - \_\_\_\_\_

1 – रिक्त स्थानों को भरें –

क) ईट का आकार ..... की तरह होता है।

ख) घनाभ के ..... किनारे होते हैं।

ग) घनाभ के ..... कोने होते हैं।

घ) घनाभ की ..... सतह होती है।

2– शब्दों में लिखें –

2456 – .....

4350 – .....

65034 – .....

342901 – .....

3– अंकों में लिखें –

छः हजार सात सौ बयालीस – ..... नौ हजार तीन सौ तेरह – .....

बारह हजार सात सौ चौंसठ – ..... एक लाख – .....

4– हल करें –

2 4 6

9 5 4

8 7

8)  $\overline{276}$ 

+ 3 5 8

- 5 2 3

× 3 5





Remark: \_\_\_\_\_

Teacher's Sign \_\_\_\_\_