

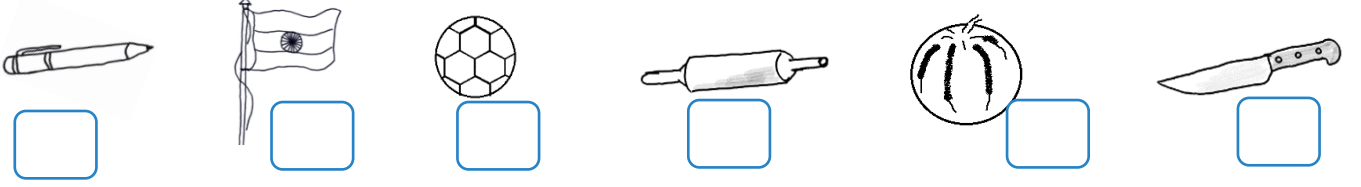


नाम -


वर्षिक परीक्षा
कक्षा - 1 विषय - गणित

प्राप्तांक -
पूर्णांक - 40

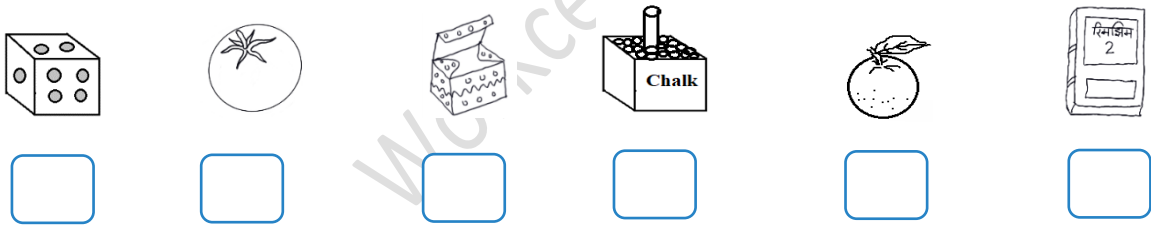
प्रश्न संख्या 1 - गोल वस्तुओं पर ✓ और लंबी वस्तुओं पर X का निशान लगाएं - 2



प्रश्न संख्या 2 - गिनें व लिखें -



प्रश्न संख्या 3 - लुड़कने वाली वस्तुओं पर ✓ और सरकने वाली वस्तुओं पर X का चिन्ह लगाएं - 4

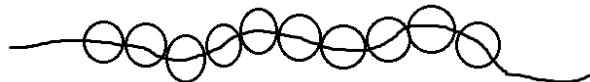


प्रश्न संख्या 4 - क्रम से गिनती आगे बढ़ाएं - 4

11,	12	13,	20
31,	32	33,	40
51,	52	53,	60
71,	72,	80

प्रश्न संख्या 5 - माला के मोतियों पर रंग भरें - 2

6 मोतियों पर




9 मोतियों पर



प्रश्न संख्या प्रश्न संख्या 11 – कुल मिलाकर कितने रूपये हुए ? लिखें –

4



Workceet.com